



FACIT

ÄR DU FYRKANTIG?

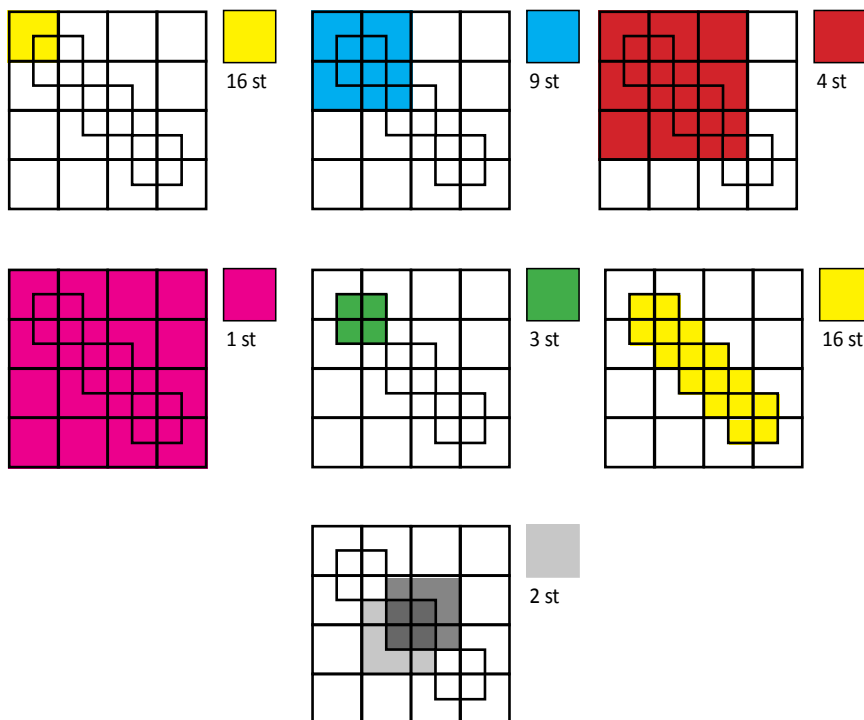


Hur många kvadrater kan du hitta?



Rätt svar: 51 st.

Se hur vi räknat på arlakadabra.se



Rätt svar: $16 + 9 + 4 + 1 + 3 + 16 + 2 = 51$ st.

**Arla
Kadabra**

FLER KLURINGAR HITTAR DU PÅ ARLAKADABRA.SE